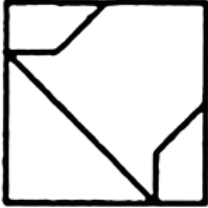


۲

شکل بالا در کدام شکل پایین وجود دارد؟



جدول سودوکو چیست؟

جدول سودوکو یک جدول زاپنی است که به آن جدول اعداد متقاطع هم گفته می شود. این جدول از ۹ سطر و ۹ ستون تشکیل شده است. از طرفی این جدول به ۹ مربع مساوی تقسیم شده است بطوری که مربع های ۳ در ۳ داخلی در دل مربع اصلی قرار دارند و بلوک نامیده می شوند.

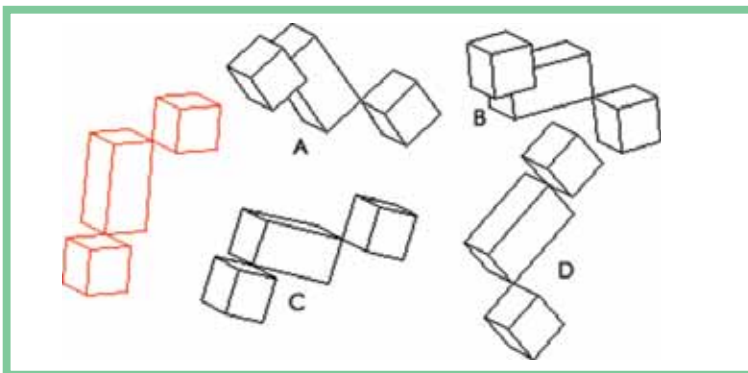
قانون های این بازی شامل ۴ شرط اصلی و ساده است: همه سطر و ستون ها شامل اعداد بین ۱ تا ۹ باشد.

در هیچ سطری عدد تکراری نباشد.

در هیچ ستونی عدد تکراری نباشد.

در هیچ بلوکی عدد تکراری نباشد.

	۴	۱						
				۹	۵	۱		
						۷	۳	۵
	۸				۲		۱	۹
		۴				۲		
۲	۳		۴				۷	
۸	۵	۳						
		۲	۱	۵				
						۴	۵	




۱

کدامیک با نمونه قرمز یکسان است؟ ممکن است بیش از یک جواب داشته باشد.

۳

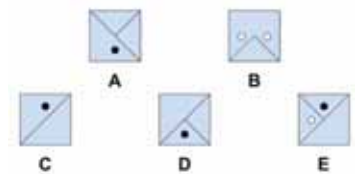
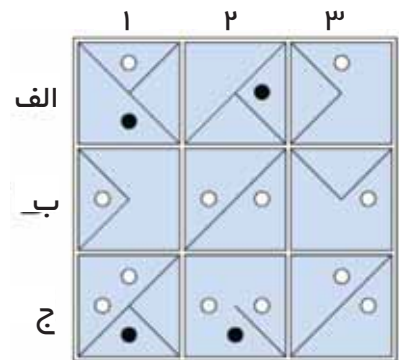
کدام گروه از اشکال جا افتاده است؟



الف ب ج د ه

۵

کدام کاشی باید با یکی از کاشی‌های پایین جابجا شود؟



۴

بابک و امید و فرهاد برای کندن قارچ رفتند. اگر بابک و فرهاد سه برابر امید قارچ کنده باشند و امید و فرهاد پنج برابر بابک فرهاد بیشتر قارچ کنده است یا بابک و امید باهم؟



اختلاف‌های دو تصویر را بیابید.



پاسخ‌ها:

- ۱- الف
- ۲- ب
- ۳- ج
- ۴- د
- ۵- ه

